

§ 14. КЛІМАТ АФРИКИ



ПРАЦЮЄМО РАЗОМ • в групі • в парі • аналізуємо • досліджуємо

ПРОВОДИМО ДОСЛІДЖЕННЯ

Визначення типів клімату Африки за кліматичними діаграмами • робота в парах

Приладдя: карта кліматичних поясів, кліматична карта Африки, кліматичні діаграми.

Наука свідчить...

Кліматична діаграма – графічне зображення особливостей клімату певної місцевості.

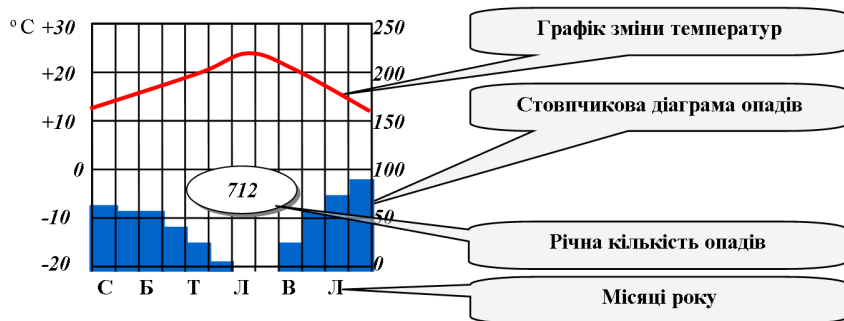
Кліматична діаграма складається з двох графічних зображень:

- графіку ходу температур повітря;
- стовпчикової діаграми розподілу опадів.

За кліматичною діаграмою можна встановити:

- середні температури кожного місяця;
- положення місцевості відносно екватора: Північна чи Південна півкуля;
- розрахувати річну амплітуду коливання температури;
- середньорічну кількість опадів;
- середню кількість опадів кожного місяця;
- сезонність розподілу опадів: рівномірний розподіл протягом року, літній максимум, зимовий максимум.

Зразок кліматичної діаграми



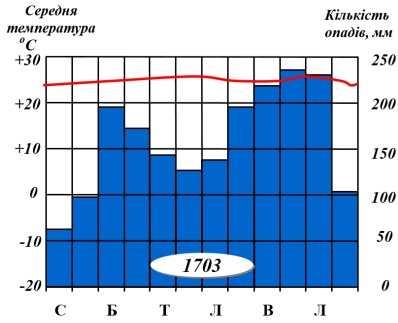
Завдання

1. Проаналізуйте кліматичні діаграми та визначте типи клімату. Результати досліджень запишіть у таблицю.

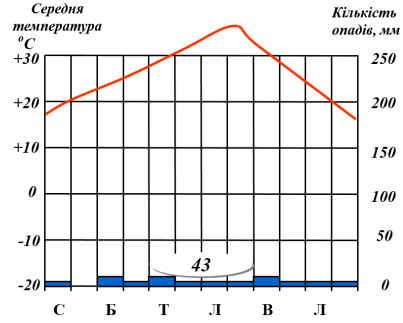
Визначення типів клімату Африки за кліматичними діаграмами

№ діаграми	Середня температура, °C		Півкуля відносно екватора	Амплітуда температур, °C	Опади		Тип клімату
	січня	липня			за рік, мм	сезонність розподілу	

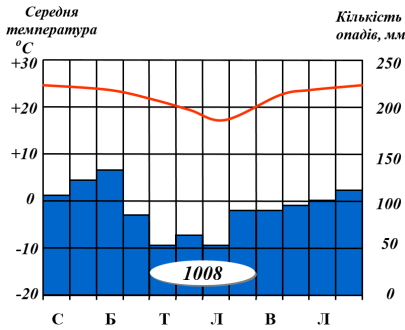
Кліматичні діаграми в різних частинах Африки



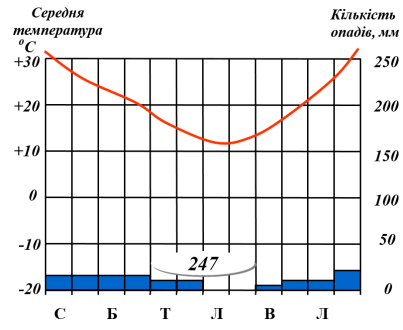
№1



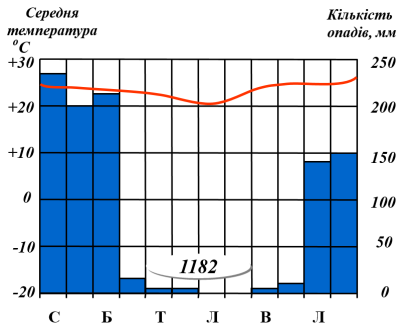
№2



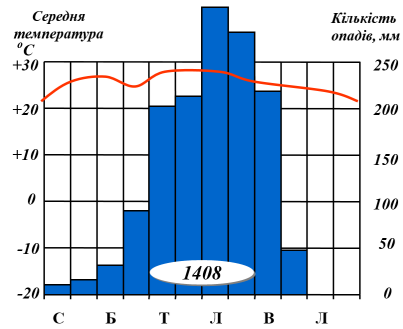
№3



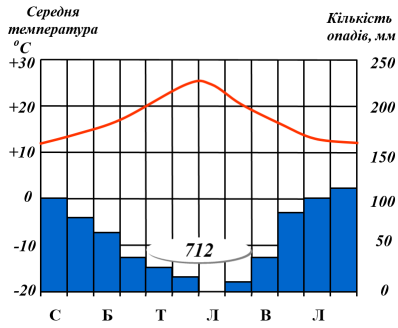
№4



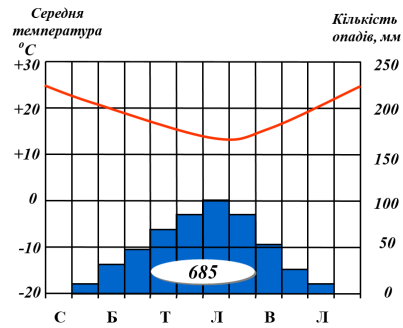
№5



№6



№7



№8

2. Оцініть власну роботу та роботу однокласників.