

§ 28. КЛІМАТ І ВОДИ СУХОДОЛУ АВСТРАЛІЇ



ПРАЦЮЄМО РАЗОМ • в групі • в парі • аналізуємо • досліджуємо

ВИКОНУЄМО ПРАКТИЧНУ РОБОТУ

Визначення типів клімату Австралії

за кліматичними діаграмами • робота в парах

Приладдя: карта кліматичних поясів, кліматична карта Австралії, кліматичні діаграми

Завдання

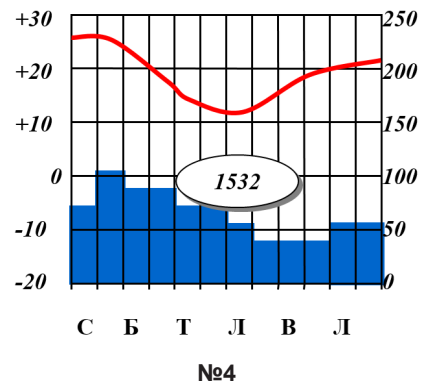
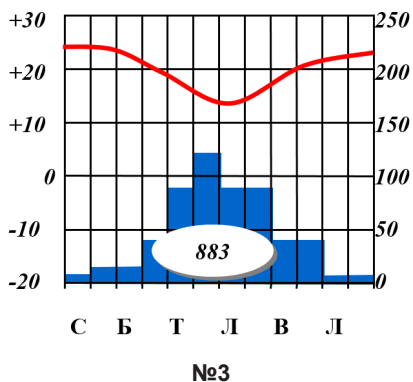
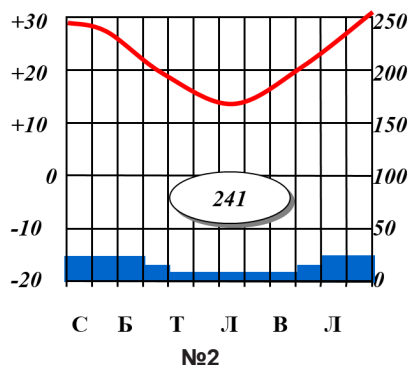
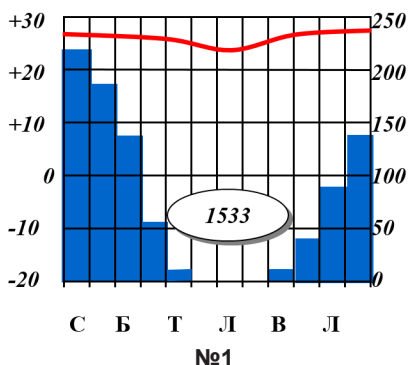
- Проаналізуйте кліматичні діаграми та визначте типи клімату. Результати досліджень запишіть у таблицю.

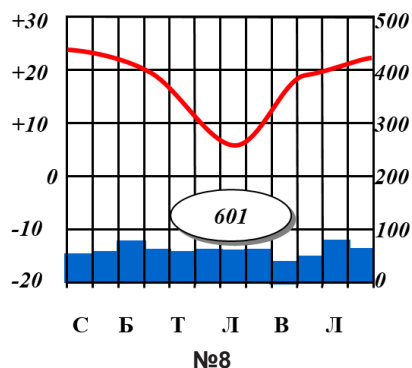
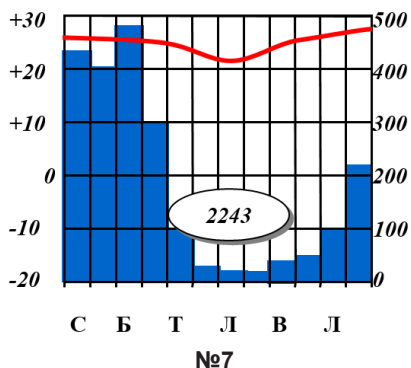
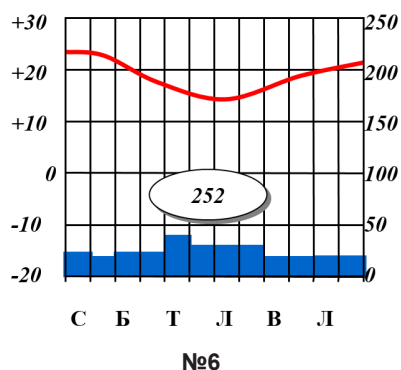
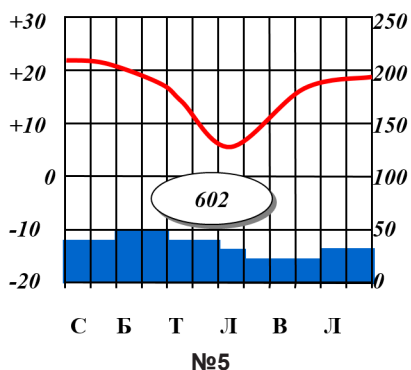
Визначення типів клімату Австралії

за кліматичними діаграмами

№ діаграми	Середня температура, °С		Півкуля відносно екватора	Амплітуда температур, °С	Опади		Тип клімату
	січня	липня			за рік, мм	сезонність розподілу	

Кліматичні діаграми в різних частинах Австралії





- Оцініть кліматичні умови кожної з територій, для яких складені зазначені кліматичні діаграми, щодо рівня комфортності для проживання людей, а також культивування сільськогосподарських рослин, розведення свійських тварин, видобутку корисних копалин, будівництва, розвитку туризму.
- Оприлюдніть результати вашої роботи. Оцініть власну роботу та роботу однокласників.