

§ 44. КЛІМАТИЧНІ ПОЯСИ ТА ТИПИ КЛІМАТУ ЄВРАЗІЇ



ПРАЦЮЄМО РАЗОМ • в групі • в парі • аналізуємо • досліджуємо

ВИКОНУЄМО ПРАКТИЧНУ РОБОТУ

Визначення типів клімату в межах помірного кліматичного поясу Євразії за допомогою кліматичних діаграм • робота в групах

Приладдя: карта кліматичних поясів, кліматична карта Євразії, кліматичні діаграми

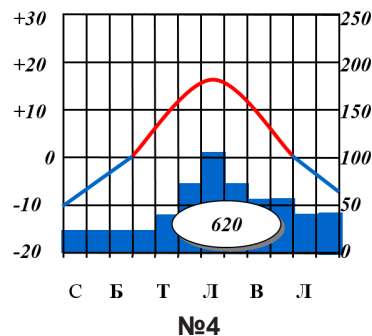
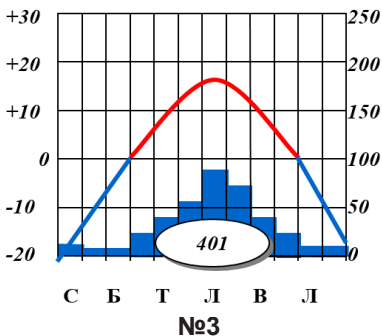
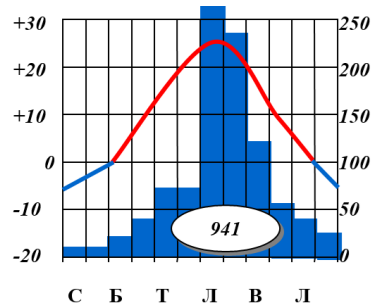
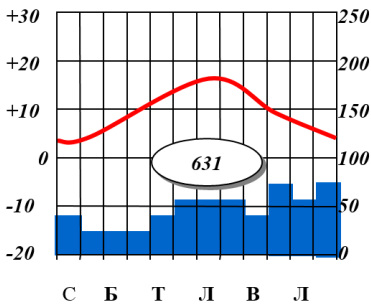
Завдання

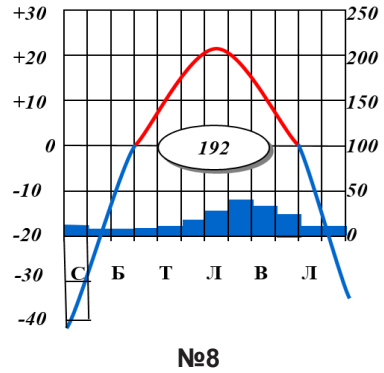
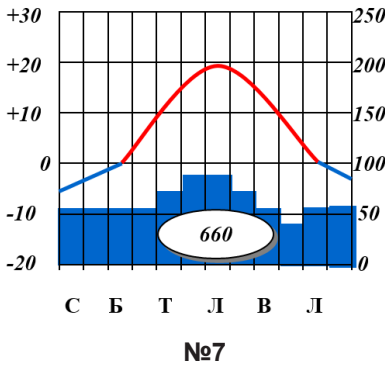
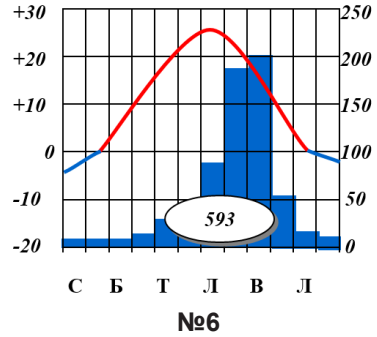
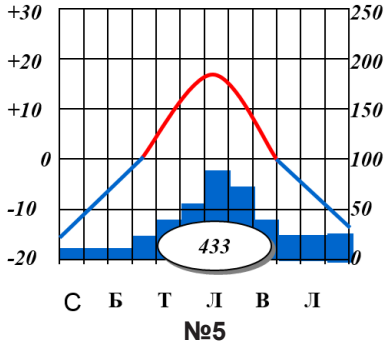
1. Проаналізуйте кліматичні діаграми помірного поясу та визначте, для якої кліматичної області характерна кожна з них. Результати досліджень запишіть у таблицю.

Визначення типів клімату в межах помірного кліматичного поясу Євразії за кліматичними діаграмами

№ діаграми	Середня температура, °C		Амплітуда температур, °C	Опади		Тип клімату
	січня	липня		за рік, мм	сезонність розподілу	

Кліматичні діаграми для різних кліматичних областей помірного поясу Євразії





- Оцініть кліматичні умови кожної з територій, для яких складені зазначені кліматичні діаграми, щодо рівня комфортності для проживання людей, а також вирощування сільськогосподарських рослин, розведення свійських тварин, видобутку корисних копалин, будівництва, розвитку туризму.
- Оприлюдніть результати вашої роботи. Оцініть власну роботу та роботу однокласників.